

Actividades 18, 19 y 20

Observa el primer cuadrado, que ya está resuelto, y comprueba que al multiplicar las filas y las columnas da como resultado el número que nos indican. Resuelve los demás cuadrados multiplicativos.

9	7	63
6	8	48
54	56	

		27
		8
6	36	

		48
		30
40	36	

		15
		36
45	12	

		81
		24
54	36	

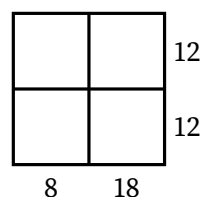
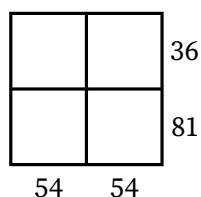
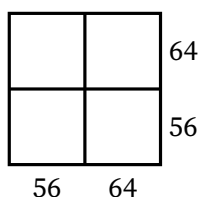
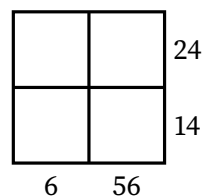
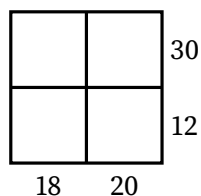
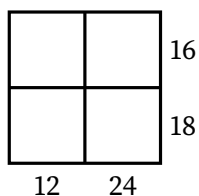
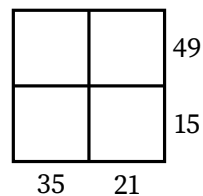
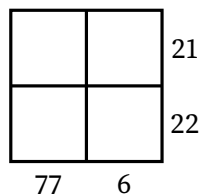
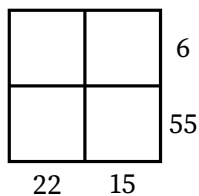
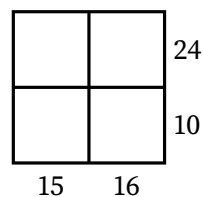
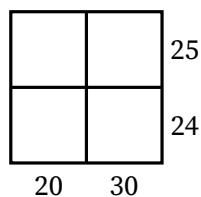
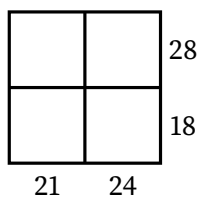
		63
		40
35	72	

		54
		14
18	42	

		15
		35
21	25	

		27
		36
54	18	

Resuelve ahora estos otros cuadrados multiplicativos:



Fíjate en que algunos cuadrados tienen **más** de una solución. ¿Cuáles son? Halla todas sus soluciones alternativas. ¿Encuentras alguna regla que permita sacar todas las soluciones?